



INSTITUCIÓN EDUCATIVA SAN LUCAS
GESTIÓN ACADÉMICA

Código: GA-Fo2o
Versión: 1
Vigencia: 30/03/2020

GUÍA DE CLASES

Asignatura: MATEMÁTICAS		Grado: TERCERO	
Contenido: El reloj.			
Aprendizaje: Reconoce la hora exacta, la media hora y el cuarto de hora en el reloj.			
Saberes Previos: contar hasta el 60 y de 5 en 5.			
Fases	Actividades	Recursos	Desempeños
INICIO	<p>Con un saludo afectuoso, invito a estudiantes, por medio de sus padres a tener la oportunidad para crecer, compartir y continuar aprendiendo.</p> <p>En esta guía, los niños y las niñas aprenderán a identificar la hora en el reloj.</p> <p>Un reloj es un dispositivo que permite realizar la medición del tiempo y segmentarlo en unidades (segundos, minutos, horas, etc.). El mecanismo del reloj consiste en desarrollar un movimiento de características uniformes, regulándolo con un péndulo.</p> <p>Nombre: _____</p> <p>¿Que hora es?</p> <p>Aprende las horas que marca la aguja de los minutos.</p> <p>www.edufichas.com</p>	<p>Cuaderno de matemáticas.</p> <p>Celulares y computadores con acceso a internet.</p> <p>Texto de matemática todos a aprender grado tercero (1-2-3.)</p>	<p>Identifica el reloj como un instrumento de medida del tiempo. Lee correctamente la hora de un reloj digital y/o manecilla.</p>



INSTITUCIÓN EDUCATIVA SAN LUCAS
GESTIÓN ACADÉMICA

Código: GA-Fo2o
Versión: 1
Vigencia: 30/03/2020










GUÍA DE CLASES

Asignatura: MATEMÁTICAS **Grado: TERCERO**

Contenido: El reloj

Aprendizaje: Reconoce la hora exacta, la media hora y el cuarto de hora en el reloj.

Saberes Previos: contar hasta el 60 y de 5 en 5.

Fases	Actividades	Recursos	Desempeños
Desarrollo	<p>Las unidades de medida del tiempo Las unidades de medida el tiempo se crearon para poder contarlo: minutos, segundos, horas, días, semanas, meses... Para las horas del reloj se cuentan los segundos, minutos y horas. Utilizamos las unidades de medida del tiempo para organizar nuestras tareas diarias, para no llegar tarde, para saber cuándo ir a dormir...</p> <ul style="list-style-type: none"> • 60 segundos = 1 minuto • 60 minutos = 1 hora <p>Por tanto:</p> <ul style="list-style-type: none"> • Media hora = 30 minutos • Un cuarto de hora = 15 minutos • 3 cuartos de hora = 45 minutos <p>Escribe la hora correspondiente en cada caso.</p> <div style="display: flex; justify-content: space-around; align-items: flex-start;"> <div style="text-align: center;">  Las dos menos cuarto [] </div> <div style="text-align: center;">  [] </div> <div style="text-align: center;">  [] </div> </div> <div style="display: flex; justify-content: space-around; align-items: flex-start; margin-top: 10px;"> <div style="text-align: center;">  [] </div> <div style="text-align: center;">  Las once y diez [] </div> <div style="text-align: center;">  Las seis y cuarto [] </div> </div> <div style="display: flex; justify-content: space-around; align-items: flex-start; margin-top: 10px;"> <div style="text-align: center;">  Las nueve y veinticinco [] </div> <div style="text-align: center;">  [] </div> <div style="text-align: center;">  Las cuatro y cinco [] </div> </div>	<p>Cuaderno de matemáticas. Celulares y computadores con acceso a internet.</p> <p>Texto de matemática todos a aprender grado tercero (1-2-3.)</p>	<ul style="list-style-type: none"> • Calcula la hora y la fecha en distintas unidades de tiempo



INSTITUCIÓN EDUCATIVA SAN LUCAS
GESTIÓN ACADÉMICA

Código: GA-Fo2o
Versión: 1
Vigencia: 30/03/2020

GUÍA DE CLASES

Asignatura: MATEMÁTICAS		Grado: TERCERO	
Contenido: El reloj			
Aprendizaje: Reconoce la hora exacta, la media hora y el cuarto de hora en el reloj.			
Saberes Previos: contar hasta el 60 y de 5 en 5.			
Fases		Actividades	
		INDIVIDUAL	GRUPAL
CIERRE	DINAMICA	<p style="text-align: center;"><u>Las horas (2)</u> </p> <p style="text-align: center;">Pega la hora correcta en cada uno de los relojes.</p>	
Evaluación (Heteroevaluación, Coevaluación, Autoevaluación)		<p>Revisión de los talleres por parte del docente (enviar vía WhatsApp o e mail). ¿Cómo te sentiste resolviendo la guía? ¿Qué fue lo más fácil y difícil de la guía? Elabora un reloj con materia que tengas en la casa y con ayuda de tus padres jueguen a ubicar diferentes horas en el reloj.</p>	
Bibliografía		<p>Texto de matemática de tercer grado situación 1-2.3, DBA de matemática, texto ZOOM de matemática del grado tercero.</p>	